

Arbeitsblatt:

Name:

Trinkwasserversorgung im Haushalt

Klasse:

Datum:

Das Trinkwasser kommt bei uns zu Hause aus der Leitung. Die Stadtwerke Erfurt sorgen dafür, dass das Wasser von seiner Gewinnung bis zum Wasserhahn läuft.

Wie funktioniert das? Ordne die Zahlen dem Bild zu!

1 Wasserwerk

2 Hochbehälter

3 Versorgungsleitung

4 Hydrant

5 Hydranten-Hinweisschild

6 Anbohrschelle mit Ventil
(Absteller)

7 Hinweisschild auf Absteller

8 Hausanschlussleitung

9 Wasserzähler

10 Steigeleitung zu den
Zapfstellen


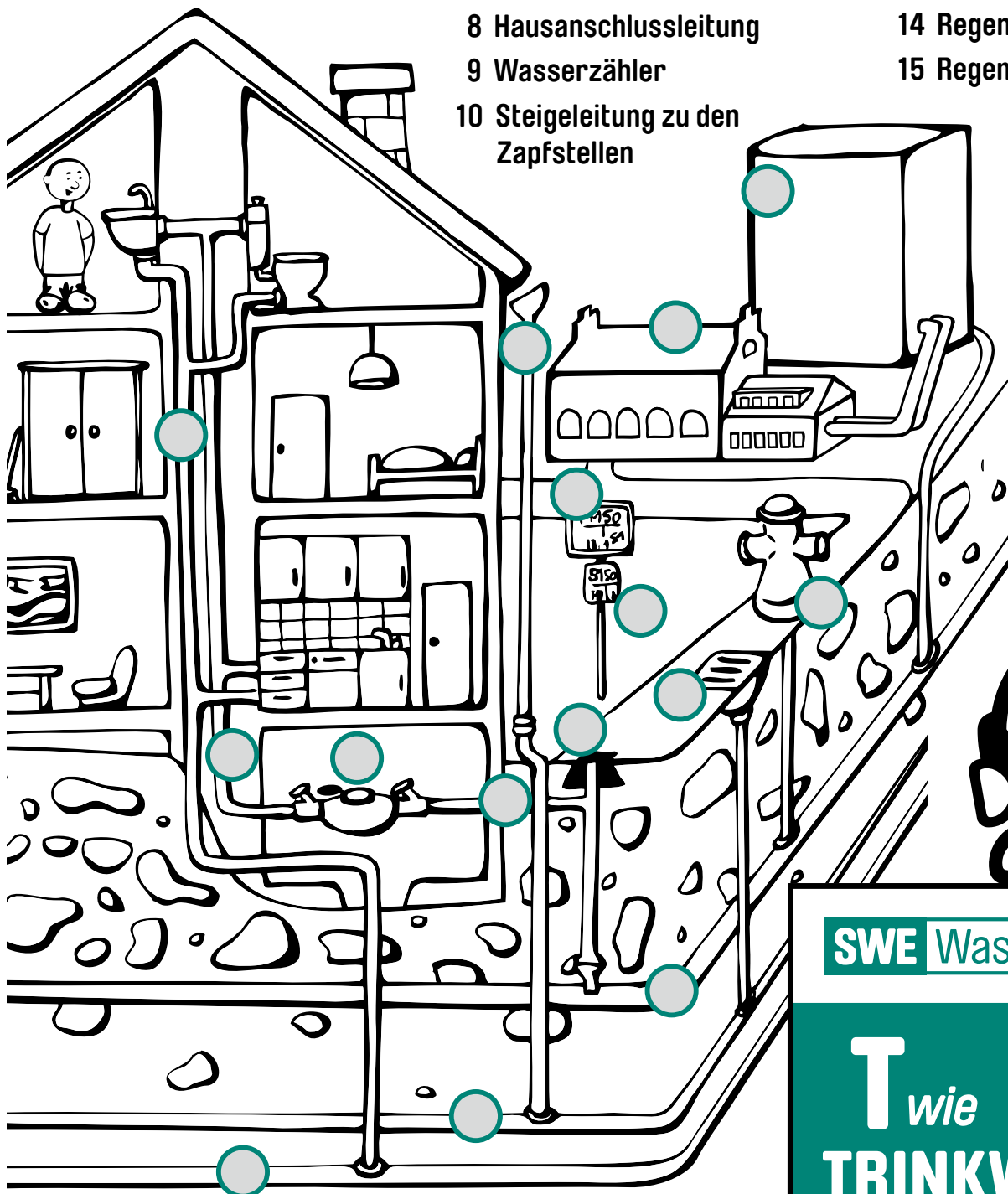
11 Schmutzwasserfalleitung
(Abwasser)

12 Schmutzwasserkanal
(Abwasser)

13 Regenwasserfallrohr

14 Regenwasserkanal

15 Regenwassereinlauf/Gully



SWE Wasser

T wie
TRINKWASSER


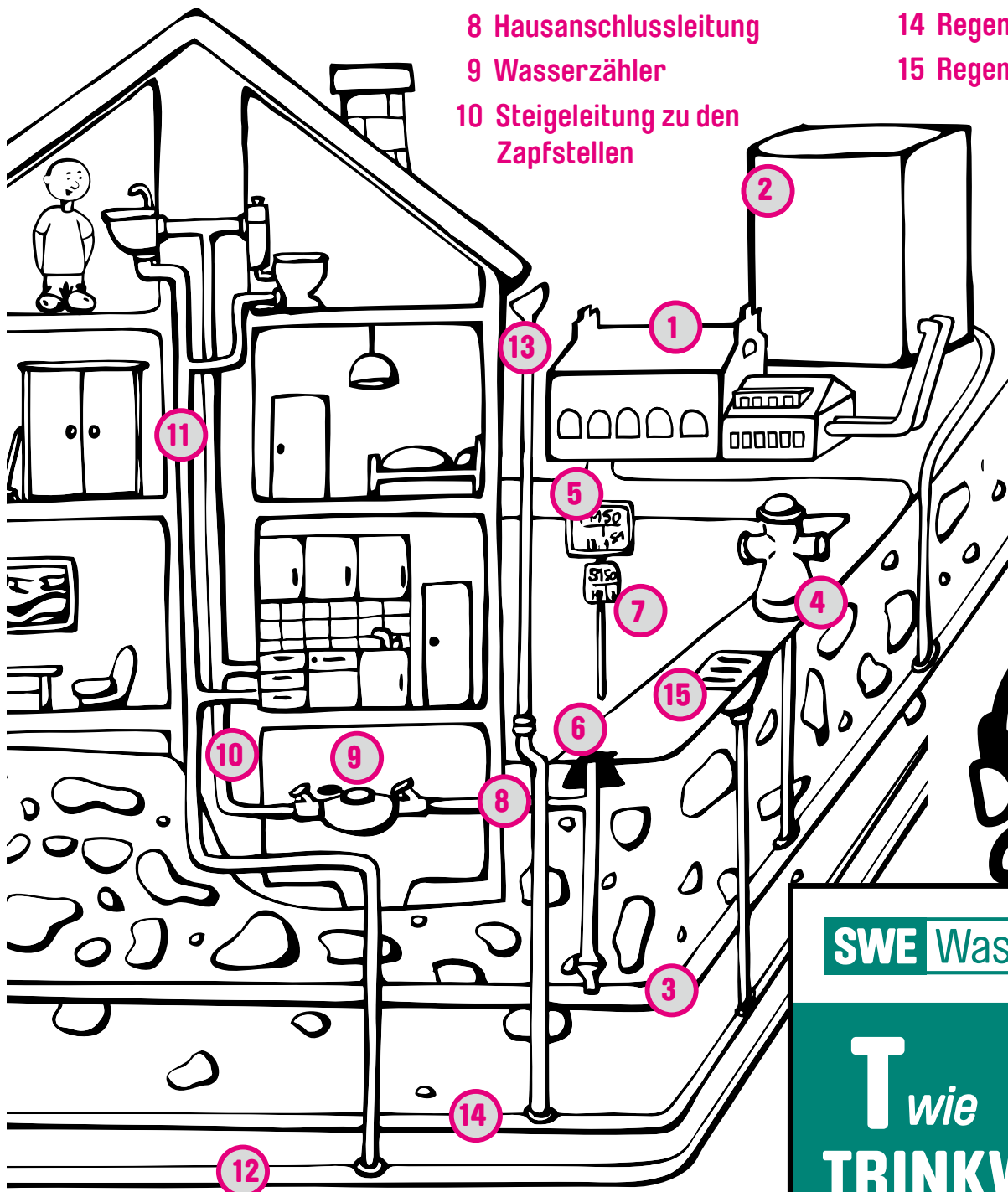
Das Trinkwasser kommt bei uns zu Hause aus der Leitung. Die Stadtwerke Erfurt sorgen dafür, dass das Wasser von seiner Gewinnung bis zum Wasserhahn läuft.

Wie funktioniert das? Ordne die Zahlen dem Bild zu!

- 1 Wasserwerk
- 2 Hochbehälter
- 3 Versorgungsleitung

- 4 Hydrant
- 5 Hydranten-Hinweisschild
- 6 Anbohrschelle mit Ventil (Absteller)
- 7 Hinweisschild auf Absteller
- 8 Hausanschlussleitung
- 9 Wasserzähler
- 10 Steigeleitung zu den Zapfstellen

- 11 Schmutzwasserfalleitung (Abwasser)
- 12 Schmutzwasserkanal (Abwasser)
- 13 Regenwasserfallrohr
- 14 Regenwasserkanal
- 15 Regenwassereinlauf/Gully



SWE Wasser

T wie
TRINKWASSER